



## **Всероссийская экономическая олимпиада школьников имени Н.Д. Кондратьева**

*2021/22 учебный год*

*5–9 класс*

Олимпиадная работа состоит из **трех разделов**. Участник олимпиады сам определяет последовательность выполнения заданий. Ответы на задания должны быть приведены на **бланках ответов**.

**Раздел А** (задания №А1–А20) содержит 20 вопросов. Каждый полностью правильный ответ на задание раздела А оценивается максимально в **2 балла**; отсутствие ответа / неправильный ответ — 0 баллов.

**Раздел В** содержит четыре открытых вопроса по экономической теории (задания №В1–В4) и две проблемные ситуации по основам финансовых и потребительских знаний (№В5–В6). Количество баллов, выставляемых за ответ на задания раздела В, зависит от правильности и полноты ответа. Каждый ответ (в зависимости от правильности и полноты) на задания **В1–В6 оценивается от 0 до 5 баллов**.

**Раздел С** содержит одно задание и несколько вопросов к нему. **Максимальный балл за задание раздела С — 30 баллов**. Оцениваться будет и полностью правильный, и частично правильный ответ. При оценке ответов на вопросы учитываются: а) знание терминологии и конкретного материала соответствующей области экономической теории, грамотность использования экономических фактов и терминов; б) полнота ответов; в) умение связать теоретический материал с практическими примерами; г) аргументированность, четкость и структурированность ответов; д) оригинальность ответов.

## РАЗДЕЛ А

### Задание А1.

В предложенном перечне укажите экономистов-современников Н.Д. Кондратьева:

- 1) Джон Мейнард Кейнс
- 2) Жан-Батист Сэй
- 3) Милтон Фридмен
- 4) Джозеф Стиглиц
- 5) Ирвинг Фишер
- 6) Давид Рикардо
- 7) Йозеф Шумпетер

**Ответ: 1, 3, 5, 7**

### Задание А2.

Перед вами характеристика одного из выдающихся российских экономистов – современников Н.Д. Кондратьева:

*Родился в 1888 г. в купеческой семье. Окончил Московский сельскохозяйственный институт. Среди его учителей были выдающиеся агрономы и статистики — И.А. Стебут и А.Ф. Фортунатов. Изучал опыт кооперативного движения в Западной Европе.*

*Создатель теории трудового коллектива и всех форм кооперации в сельском хозяйстве. Автор терминов «моральная экономика» и «продовольственная безопасность». Один из авторитетнейших ученых в области организации крестьянского хозяйства и сельскохозяйственной кооперации. Являлся одним из лидеров организационно-производственной школы русской экономической науки конца XIX – начала XX вв.*

*В 1930 г. был репрессирован по сфабрикованному делу «Трудовой крестьянской партии».*

**Приведите ответ на следующий вопрос:**

**О каком экономисте идет речь? В ответ запишите ФАМИЛИЮ экономиста.**

**Ответ: Чайнов**

### Задание А3.

Изучите фрагмент из трудов Императорского Вольного экономического общества 1902 года:

*«До сих пор статистическому исследованию подвергались более или менее обширные территориальные или массовые единицы – волости, уезды, губернии, отдельные поселения, отдельные сельские общества и проч. Но несомненно статистический метод исследования может быть применим и к тем случаям, когда желательно выяснить внутреннюю экономическую организацию более мелких единиц, члены которых связаны друг с другом не общностью одного плана поселения, или принадлежностью к одному административному целому, или, наконец, одинаковостью своего экономического быта (села и деревни, землевладельцы, крестьяне-общинники и т.п.), а каким-либо общим предприятием, — одним делом. Таковы разного рода кооперации в России, нередко весьма несродные между собою, но обыкновенно объединяемые под общим названием <термин>. Новые члены принимаются в <термин> при условии различных дополнительных взносов, имеющих характер вкупа. Если член выходит из <термин>, то не получает никакой доли из ее имущества, впрямь до полного прекращения деятельности <термин>».*

**Выполните следующие задания:**

**В ответе запишите пропущенный экономический термин.**

**Ответ: артель**

**Задание А4.**

В марте 2022 года среди жителей поселка Монино был проведен опрос, в ходе которого был задан вопрос: «*Какую максимальную цену Вы готовы заплатить за килограмм сахара?*».

Результаты опроса представлены в следующей таблице:

Цена кг сахара, руб.	число ответов, чел.
100	124
90	371
80	82
70	68
60	49
50	33

**Выполните следующее задание:**

**Определите величину рыночного спроса в поселке Монино на сахар при цене, равной 80 рублей за килограмм.**

**Ответ: 577**

**Задание А5.**

В Верхотуринске спрос на товар  $Y$  и его предложение заданы, соответственно, функциями  $p = 140 - 0,75 \cdot Q$  и  $p = 60 + 0,25 \cdot Q$  ( $Q$  — количество, единиц;  $p$  — цена, руб.).

В целях сокращения дефицита регионального бюджета министерством финансов региона подготовлено распоряжение о введении потоварного налога  $t$ , взимаемого с производителей товара  $Y$  в виде фиксированной суммы (20 рублей) за каждую проданную единицу продукции. Известно, что ведение налога привело к падению равновесного объема продаж на одну четверть.

**Выполните следующее задание:**

**Определите равновесную цену, которую придется платить потребителям за каждую единицу товара  $Y$  после введения данного налога. Ответ запишите в рублях.**

**Ответ: 95**

**Задание А6.**

Мастер Ник Фролов изготавливает самовары. Его затраты на производство первого самовара составляют 11700 рублей, а доход от продажи первого изготовленного самовара — 14500 рублей. Известно, что производство каждого последующего самовара обходится на 250 рублей дешевле предыдущего, а доход от его продажи на 350 рублей меньше предыдущего.

**Выполните следующее задание:**

**Определите величину максимальной прибыли мастера Фролов от производства и продажи самоваров. Ответ запишите в рублях.**

**Ответ: 40600**

**Задание А7.**

На начало 2021 года резервный фонд Правительства составлял 1638 млрд. рублей.

В первом полугодии 2021 года было израсходовано  $7/12$  средств резервного фонда, в третьем квартале 2021 года —  $4/7$  от оставшегося объема, а в четвертом квартале 2021 года —  $1/5$  остатка средств. В 2021 году поступлений в резервный фонд Правительства не было.

**Выполните следующее задание:**

**Определите размер резервного фонда Правительства на конец 2021 года. Ответ запишите в миллиардах рублях.**

**Ответ: 234**

### Задание А8.

Фирма «Пилюлькин» специализируется на изготовлении медицинских респираторов, действует на рынке совершенной конкуренции и максимизирует прибыль.

Зависимость выпуска фирмы «Пилюлькин» (медицинских респираторов в месяц) от численности работников фирмы представлена в таблице:

количество работников, чел.	1	2	3	4	5
выпуск фирмы, штук	300	500	700	870	1000

Известно, рыночная стоимость одного респиратора составляет 250 рублей, а заработная плата одного работника на фирме составляет 42 000 рублей в месяц.

**Выполните следующее задание:**

Определите, какое **число работников** следует нанять ООО «Пилюлькин», чтобы получить наибольшую прибыль. **В ответе укажите ЦИФРУ, соответствующую количеству работников.**

**Ответ: 4**

### Задание А9.

Изучите фрагмент из работы российского экономиста начала XX века:

*«Две характерные черты отличают новейшую фазу экономической эволюции от предыдущих эпох. Первой является неслыханное до сих пор увеличение числа крупных предприятий вообще и громадных акционерных компаний в частности, второй — быстро участвовавший со второй половины 70-х гг. XIX столетия параллельно с этим обезличиванием капитала и обезличиванием его процесс, при помощи которого... остальные объединялись в целях создания для себя по возможности монопольного положения на рынке.*

*Высшая форма этой новой экономической организации — <экономический термин> получила особенно широкое применение в Северо-Американских Соединенных Штатах, где в её руках находится от 1/3 до 1/2 производства. В Европе, за немногими исключениями, <экономический термин> не удалось пока захватить в свои руки столь крупных и важных отраслей производства, как в Соединенных Штатах».*

**Выполните следующие задания:**

**В ответе запишите пропущенный экономический термин.**

**Ответ: трест**

### Задание А10.

Численность работающих на фабрике *Икс* равна пяти тысячам человек, продолжительность рабочего дня составляет семь часов в будни, а в субботу действует укороченный пятичасовой рабочий день. Тогда как на фабрике *Зет* занято пятнадцать тысяч человек и действует восьмичасовой рабочий день при пятидневной рабочей неделе. Выпуск фабрики *Икс* составляет 200 тысяч приборов в неделю, а фабрики *Зет* — 360 тысяч аналогичных приборов в неделю.

**Выполните следующее задание:**

Определите, на сколько процентов производительность труда на фабрике *Зет* меньше производительности труда на фабрике *Икс*. **В ответе запишите соответствующий процент.**

**Ответ: 40**

### Задание А11.

Перед вами фрагмент из заметки в СМИ:

«**<термин>** — это невыполнение обязательств должника по выплате долга — как процентов по нему, так и основной заемной суммы. В случае объявления **<термин>** компанией или физическим лицом следует процедура банкротства, в ходе которой устанавливаются процедуры возврата долга, его полного или частичного списания.

**<термин>** государства возникает, если оно не может вовремя выполнить обязательства перед внутренними или внешними кредиторами. Объявление государством **<термин>** снижает его кредитные рейтинги — стране становится сложно или невозможно привлекать новые займы, как следствие, ограниченность вливания внешних капиталов тормозит развитие экономики».

**Выполните следующие задания:**

**Запишите пропущенный экономический термин.**

**Ответ: дефолт**

### Задание А12.

31 декабря 2021 года инвестиционный аналитик Германов сформировал инвестиционный портфель на сумму 200 миллионов рублей из двух активов: драгоценные металлы (золото) и криптовалюта (биткойн). При этом величина средств, вложенных в биткойн, составила 25% от стоимости всего портфеля.

К концу первого квартала 2021 г. стоимость всего портфеля выросла на 30%.

**Выполните следующее задание:**

Определите, сколько процентов составила **доходность вложений** в криптовалюту биткойн, если доходность вложений в золото составила 20%. **Ответ запишите в процентах.**

**Ответ: 60**

### Задание А13.

В таблице приведены сведения о динамике некоторых макроэкономических показателей страны *М* за 2021 год (в постоянных ценах). Информация об изменении других макроэкономических показателей отсутствует.

за 2021 год выросли (в млрд. долларов):		за 2021 год снизились (в млрд. долларов):	
потребительские расходы на приобретение конечных товаров и услуг	72	валовые инвестиционные расходы фирм	37
сбережения домашних хозяйств	39	расходы фирм на выплату заработной платы	30
государственные закупки конечных товаров и услуг	51	арендные платежи	5
государственные социальные трансферты	18	налоговые поступления государства	62
выплаты по облигациям государственного займа	4	экспорт	18
амортизационные отчисления	3	импорт	17

**Приведите ответ на следующий вопрос:**

Определите величину (млрд. долларов), на которую изменился за 2021 год ВВП страны *М*, измеренный в постоянных ценах. Запишите **ЧИСЛО** (млрд. долларов).

**Ответ: 85**

#### Задание А14.

В стране *N* применяется следующая система взимания налога на доходы физических лиц (НДФЛ): первые 200 000 руб. ежегодного дохода физических лиц не облагаются налогом; доходы от 200 001 до 500 000 руб. облагаются налогом по ставке 10%; для всех доходов свыше 500 001 руб. ставка налога составляет 25%.

Известно, что в 2021 году расходы гражданина страны *N* Боброва на уплату налога на доходы физических лиц составили 15% от величины его доходов. (Налоговых льгот Бобров не имеет.)

*Выполните следующее задание:*

**Определите величину дохода гражданина Боброва за 2021 год. В ответ запишите соответствующее ЧИСЛО в рублях.**

**Ответ: 950000**

#### Задание А15.

В 2002 году население *Аллемании* составляло 80 миллионов человек. Известно, что занятые и безработные составляли, соответственно, 40% и 10% от всего населения.

К 2022 году население *Аллемании* выросла на 40%, численность занятых увеличилась в полтора раза, а численность жителей, не являющихся экономически активными, выросла на 20%.

*Выполните следующее задание:*

**Определите уровень безработицы в стране в 2022 году. В ответ запишите соответствующий процент.**

**Ответ: 25**

#### Задание А16.

Перед Вами изображение одного из государственных казначейских билетов СССР, появление которого связано со значимой экономической реформой:



**Укажите год, в который была начата финансовая реформа. В ответ запишите четырехзначное ЧИСЛО, соответствующее данному году (например, 2022).**

**Ответ: 1922**

**Задание А17.**

Изучите сведения о динамике среднемесячной номинальной начисленной заработной платы работников в Российской Федерации в январе – декабре 2021 года:

месяц	изменение среднемесячной номинальной начисленной заработной платы работников к предыдущему месяцу, в %
январь	71,48
февраль	103,46
март	107,77
апрель	102,55
май	99,22
июнь	104,65
июль	93,86
август	94,90
сентябрь	104,45
октябрь	99,93
ноябрь	101,81
декабрь	140,18

*Приведите ответ на следующий вопрос:*

**В каком месяце 2021 года, согласно представленным данным, величина среднемесячной номинальной начисленной заработной платы работников являлась максимальной? В ответ запишите название соответствующего месяца.**

**Ответ: декабрь**

**Задание А18.**

Одним из ключевых структурных элементов глобальной экономики являются международные экономические организации.

Определите, каков был статус России в нижеперечисленных международных экономических организациях в 2020 году:

- (1) Россия являлась членом организации;
- (2) Россия не являлась членом организации;
- (3) Организация не существовала.

наименование организации	статус
Всемирная торговая организация	
Евразийский экономический союз	
Международный валютный фонд	
Организация стран-экспортеров нефти	
Совет экономической взаимопомощи	

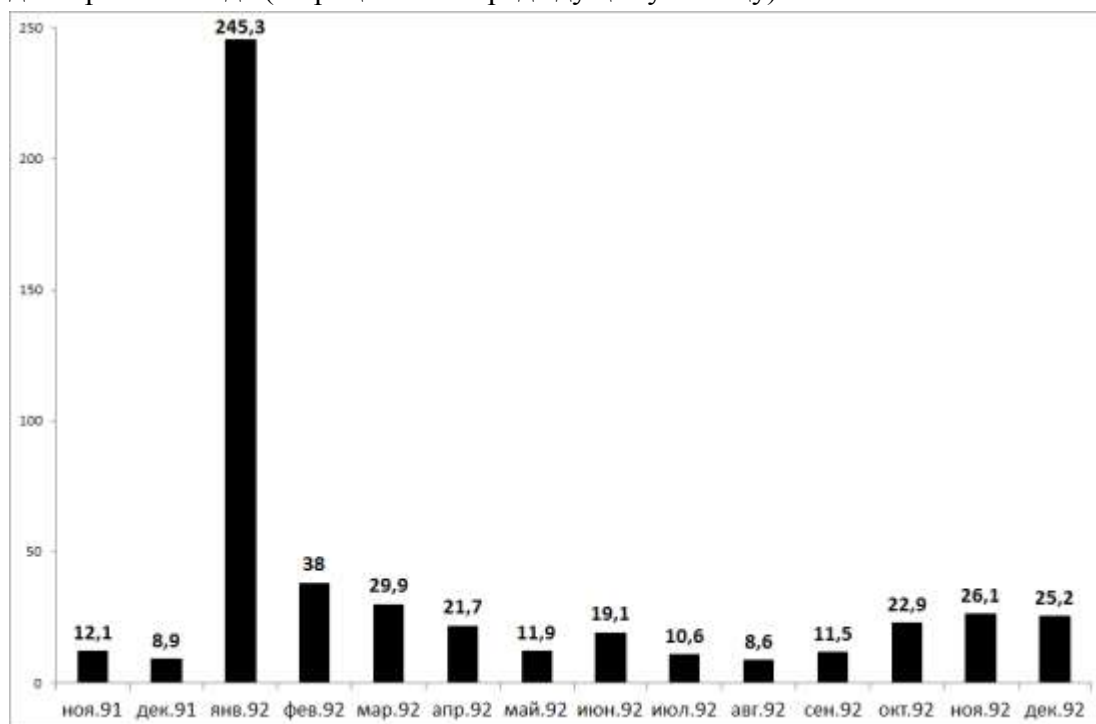
*Выполните следующее задание:*

**В ответ запишите последовательность цифр, соответствующих статусу России в вышеуказанных международных экономических организациях в 2020 году. (Например, 1111).**

**Ответ: 11123**

**Задание А19.**

На диаграмме изображена динамика индекса потребительских цен в России в ноябре 1991 – декабре 1992 года (в процентах к предыдущему месяцу):



*Приведите ответ на следующий вопрос:*

Каким экономическим термином может быть охарактеризован темп роста цен в России в январе–декабре 1992 года?

**Ответ: гиперинфляция**

**Задание А20.**

Изучите сведения из платежного баланса Российской Федерации за 2021 год:

наименование показателя	млрд. долл. США
<b>Сальдо счета текущих операций</b>	<b>120,3</b>
торговый баланс	<b>185,9</b>
<i>Экспорт</i>	<...>
<i>Импорт</i>	303,9
баланс услуг	-19,9
<i>Экспорт</i>	54,4
<i>Импорт</i>	74,5
баланс первичных и вторичных доходов	-45,8

*Выполните следующие задания:*

Определите величину экспорта России в 2021 году. Ответ запишите в млрд. долларов США.

**Ответ: 489,8**



## РАЗДЕЛ В

### Задание В1.

Изучите фрагмент из работы Г. Беккера «Экономический анализ и человеческое поведение»:

*«Я пришел к убеждению, что экономический подход является всеобъемлющим, он применим ко всякому человеческому поведению в условиях денежных или теневых вмененных цен, повторяющихся или однократных, важных или малозначащих решений, эмоционально нагруженных или нейтральных целей; он применим к поведению богачей и бедняков, пациентов и врачей, бизнесменов и политиков, учителей и учащихся. Сфера приложения понимаемого таким образом экономического подхода настолько широка, что она покрывает собой предмет экономической науки...»*

*«Не приходится говорить, что экономическому подходу не всегда одинаково успешно удается проникать в сущность различных форм человеческого поведения и объяснять их...»*

*«Я убежден, что этот результат свидетельствует не о неправомерности экономического подхода в данном случае, а, главным образом, о недостаточности предпринимавшихся до сих пор усилий».*

**Приведите ответы на следующие вопросы:**

- 1. Сформулируйте предмет современной экономической науки.**
- 2. Согласны ли Вы с утверждением Г. Беккера, что «экономический подход является всеобъемлющим, он применим ко всякому человеческому поведению». Свой ответ аргументируйте.**

### Задание В2.

Изучите фрагмент из работы американского экономиста Эдварда Чемберлина:

*«Та форма взаимодействия между силами монополии и конкуренции... возникает из того, что мы будем называть дифференциацией продукта...»*

*<Наименование рыночной структуры> есть, безусловно, нечто отличающееся и от чистой монополии, и от чистой конкуренции. В тех случаях, когда продукты дифференцированы, покупателям дается основа для предпочтения, и вследствие этого они будут группироваться попарно с продавцами не беспорядочно (как это имеет место при чистой конкуренции), а в соответствии с выбором, основанным на предпочтении... рынок каждого продавца в известной мере обособлен от других, так что все в совокупности представляют собой не единый рынок многих продавцов, а сеть взаимосвязанных рынков, распределенных между продавцами по одному на каждого».*

**Приведите ответы на следующие вопросы:**

- 1. О какой рыночной структуре идет речь?**
- 2. Что представляет собой дифференциация продукта? Какие факторы дифференциации продукции Вам известны?**

### Задание В3.

Прочитайте фрагмент из заметки «Официальная инфляция в Венесуэле отличается от неофициальной в восемь раз»:

*«Центральный банк Венесуэлы зарегистрировал в марте 2022 года самый низкий показатель месячной инфляции с 2012 года в 1,4%, в то время как по данным независимой венесуэльской финансовой обсерватории OVF, уровень инфляции в стране выше почти на порядок — он составляет 10,5%. Представители OVF назвали цифры Центробанка абсурдными, сославшись на собственные записи о росте цен на каждый продукт питания: «Не верьте этому учреждению, оно скрыло данные и публикует то, что ему удобно».*

*По данным Центробанка, инфляция за первый квартал 2022 года составляет 11,4%, а за период с марта 2021 года по март 2022 года — 284,4%. И это действительно хороший показатель, учитывая, что в 2018 году цены на жизнь в стране выросли на 130 060%».*

**Выполните следующие задания:**

- 1. Поясните значение термина «инфляция».**
- 2. Каким образом рассчитывается уровень инфляции?**

#### **Задание В4.**

Прочитайте фрагмент из научной статьи:

*«Импортозамещение в России стало актуально, когда начали проводиться активные действия по введению санкций против России. В средствах массовой информации, начиная с 2014 года, все чаще стало звучать это слово. В Советском союзе такого слова не существовало, потому что в те времена было все свое, начиная от сырья и заканчивая готовыми продуктами. После того, когда прошла приватизация заводов и фабрик, отменился запрет на ввоз товаров из-за рубежа в нашу страну пошел поток иностранных товаров, которые ничем не сдерживались. Уже потом для урегулирования товарооборота были введены законодательные таможенные акты и пошлины. Когда более половины товаров в России стали импортными, российские производители ушли с рынка, потому что конкурировать с иностранными производителями стало невозможно. И вот сейчас, возникла необходимость стать конкурентоспособными производителями, наладить свое производство и заменить импортные товары товарами своего производства... Можно сделать вывод, вспомнив пословицу: «Не было бы счастья, да несчастье помогло». Внешнеполитическая ситуация в России, которая сложилась в последнее время в стране, вроде должна была повлечь за собой губительные последствия, а получилось наоборот».*

**1. Поясните значение термина «импортозамещение».**

**2. Обоснована ли точка зрения, что импортозамещение полезно для российской экономики? Свой ответ аргументируйте.**

#### **Задание В5.**

Изучите фрагмент из доклада Роспотребнадзора «Защита прав потребителей в Российской Федерации в 2020 году»:

*«Экономические кризисы и связанное с ними сокращение доходов традиционно являются временем активизации финансовых мошенников. В последние годы, особенно в аспекте перехода на дистанционные каналы обслуживания, оказалось очевидным, что скорость развития мошеннических систем в банковской сфере существенно превышает скорость построения защиты от таких противозаконных действий.*

*Мониторинг финансовой грамотности, проводимый ежегодно Минфином России и НАФИ, показывает, что до сих пор россияне не научились в достаточной мере различать мошеннические схемы и финансовые пирамиды. В целом уверенно способны распознать финансовую пирамиду около четверти (26%) жителей России».*

**Приведите ответы на следующие вопросы:**

**1. Что представляет собой финансовая пирамида? Какие признаки финансовой пирамиды Вам известны?**

**2. Обоснована ли точка зрения, что «экономические кризисы и связанное с ними сокращение доходов традиционно являются временем активизации финансовых мошенников»? Свой ответ аргументируйте.**

#### **Задание В6.**

Изучите приведенную проблемную ситуацию:

7 марта 2022 года Юлия Арбузкина купила в кашемировый кардиган с 50% скидкой. Примерив кардиган дома при ярком освещении, Юлия поняла, что его форма и цвет не соответствуют ее стилю. На следующий день Юлия обратилась в магазин с просьбой вернуть товар и возратить уплаченные за него средства.

Однако продавец ей отказал, мотивируя тем, что, во-первых, магазин товары надлежащего качества обратно не принимает, а, во-вторых, товар был приобретен на распродаже, был значительно уценен, и, значит, обмену и возврату не подлежит.

**Руководствуясь действующим законодательством, выполните задание:**

**Правомерны ли действия продавца? Посоветуйте, какие действия следует предпринять Юлии Арбузкиной для защиты своих прав. Аргументируйте свой ответ.**

**Раздел В (каждое задание максимум — 5 баллов)**

Вопрос	ключевые элементы ответа
В1	<p>1. Корректно сформулирован предмет современной экономической науки — 1 балл.</p> <p>2. Сформулирована собственная позиция — 1 балл.</p> <p>Приведено с опорой на экономические знания обоснование собственной позиции по вопросу о том, что экономический подход является всеобъемлющим, он применим ко всякому человеческому поведению.</p> <p><i>В зависимости от полноты и правильности ответа — 0, 1, 2, 3 балла.</i></p>
В2	<p>1. Монополистическая конкуренция – 1 балл.</p> <p>2. Приведено корректное и полное определение понятия «дифференциация продукции» — 1 балл.</p> <p>Перечислены факторы дифференциации продукции.</p> <p><i>В зависимости от полноты и правильности ответа — 0, 1, 2, 3 балла.</i></p>
В3	<p>1. Приведено корректное и полное определение понятия «инфляция» — 1 балл.</p> <p>2. За каждый корректно указанный способ расчета уровня инфляции – 1 балл.</p> <p>Максимум – 4 балл.</p>
В4	<p>1. Импортозамещение — 1 балл.</p> <p>2. Приведено с опорой на экономические знания обоснование собственной позиции по вопросу о том, что импортозамещение полезно для российской экономики.</p> <p><i>В зависимости от полноты и правильности ответа — 0, 1, 2, 3 или 4 балла.</i></p>
В5	<p>1. Приведено корректное и полное определение понятия «финансовая пирамида» – 1 балл.</p> <p>Корректно перечислены ключевые признаки финансовой пирамиды.</p> <p><i>В зависимости от полноты и правильности ответа — 0, 1, 2 балла.</i></p> <p>2. Приведено с опорой на экономические знания и факты обоснование по вопросу, что экономические кризисы и связанное с ними сокращение доходов традиционно являются временем активизации финансовых мошенников.</p> <p><i>В зависимости от полноты и правильности ответа — 0, 1, 2 балла.</i></p>
В6	<p>Указано, что действия продавца не правомерны, — 1 балл.</p> <p>Приведено с опорой на нормы действующего законодательства пояснение, почему действия продавца не правомерны.</p> <p><i>В зависимости от полноты и правильности ответа — 0, 1 или 2 балла.</i></p> <p>Приведено с опорой на нормы действующего законодательства пояснение, какие действия следует предпринять Ю. Арбузкиной в указанной ситуации.</p> <p><i>В зависимости от полноты и правильности ответа — 0, 1 или 2 балла.</i></p>

## РАЗДЕЛ С

**Прочитайте нижеприведенный отрывок из работы выдающегося российского ученого Д.И. Менделеева «Заветные мысли»:**

«По мере развития потребностей и трудолюбия в данной стране в ней развивается и внешняя торговля, основанная на сбыте местных продуктов и приобретении чужих... Такие отношения... составляют сущность фритредерского (от Free trade — свободная торговля) учения. Оно считало совершенно естественным деление всех стран на три глубоко различные категории: дикие, лишенные каких бы то ни было видов промышленности (там добывают все только для своего личного обихода, а не для других равных людей, то есть не для меня), земледельческие с преобладанием хлебопашества и скотоводства и промышленные, то есть преимущественно фабрично-заводские.

Не вдаваясь во всю сложность понятий, подразумеваемых под различием фритредерства от протекционизма, я считаю, однако, необходимым обратить внимание на то, что фритредерство, по всей видимости, во всех отношениях благоприятствует внешней торговле стран, а протекционизм как будто бы этому противоречит потому, что стремится возбудить в каждой стране всевозможные виды промышленности, чтобы страна пользовалась для удовлетворения все увеличивающихся потребностей своими собственными произведениями, а не чужими.

Такая видимость, однако, на деле и по априорному понятию не отвечает протекционизму... Причину легко видеть в том, что при развитии в сельскохозяйственной стране всяких видов промышленности находятся такие, которые отвечают всем условиям страны, а потому развиваются быстро, легко достигают перепроизводства уже внутренних потребностей, удешевляются дешевой местной сырьем и стремятся к внешнему вывозу, а в то же время содействуют и росту сельскохозяйственной производительности, так как эта последняя приобретает много выгоды от близости заводского сбыта и свои выгоды от возрастания внутреннего потребления на своих фабриках и заводах. Таким образом, выходит, что протекционизм в сельскохозяйственных странах, на взгляд задерживающий обороты внешней торговли, в сущности служит лишь к ее возрастанию».

***Приведите ответы на следующие вопросы к заданию:***

**№1.** Поясните значение понятия «внешнеторговая политика». Какие две разновидности внешнеторговой политики выделяет Д.И. Менделеев? Кратко охарактеризуйте каждую из них.

**№2.** Какими соображениями обосновывались ограничительные меры внешнеторговой политики Российской империи на рубеже XIX–XX веков? Приведите примеры использования ограничительных инструментов внешнеторговой политики из экономической истории России.

**№3.** Сохраняет ли в настоящее время обоснованность точка зрения Д.И. Менделеева, что *«протекционизм в сельскохозяйственных странах, на взгляд задерживающий обороты внешней торговли, в сущности служит лишь к ее возрастанию»*? Свой ответ аргументируйте.

**Раздел С**  
**(максимум — 30 баллов)**

**№1. Поясните значение термина «экономическая конъюнктура».**

*Приведено корректное и полное определение понятия «внешнеторговая политика»:*

*В зависимости от полноты и правильности ответа — 0, 1 или 2 балла.*

**Какие две разновидности внешнеторговой политики выделяет Д.И. Менделеев?**

Протекционизм – 1 балл. Фритрейдерство – 1 балл.

**Кратко охарактеризуйте каждую из них.**

*Приведена с опорой на знания экономической теории корректная и полная характеристика политики протекционизма.*

*В зависимости от полноты и правильности ответа — 0, 1, 2, или 3 балла.*

*Приведена с опорой на знания экономической теории корректная и полная характеристика политики свободной торговли (фритрейдерства).*

*В зависимости от полноты и правильности ответа — 0, 1, 2, или 3 балла.*

**№2. Какими соображениями обосновывались ограничительные меры внешнеторговой политики Российской империи на рубеже XIX–XX веков?**

*Приведено с опорой на знания экономической теории и истории России корректное и полное пояснение, какими соображениями обосновывались ограничительные меры внешнеторговой политики Российской империи на рубеже XIX–XX веков.*

*В зависимости от полноты и правильности ответа — 0, 1 или 2 балла.*

**Приведите примеры использования ограничительных инструментов внешнеторговой политики из экономической истории России.**

*За каждый корректно приведенный пример использования ограничительных инструментов внешнеторговой политики из экономической истории России – 1 балл, максимум – 8 баллов.*

**№3. Сохраняет ли в настоящее время обоснованность точка зрения Д.И. Менделеева, что «протекционизм в сельскохозяйственных странах, на взгляд задерживающий обороты внешней торговли, в сущности служит лишь к ее возрастанию»? Свой ответ аргументируйте.**

*Сформулирована собственная точка зрения – 1 балл.*

*Приведено корректное и полное обоснование собственной позиции с опорой на знания экономической теории по вопросу актуальности точки зрения, что «протекционизм в сельскохозяйственных странах, на взгляд задерживающий обороты внешней торговли, в сущности служит лишь к ее возрастанию».*

*В зависимости от полноты и правильности ответа – до 9 баллов.*



## **Всероссийская экономическая олимпиада школьников имени Н.Д. Кондратьева**

*2021/22 учебный год*

### *Ответы и критерии проверки олимпиадных заданий для участников 10–11 классов*

Олимпиадная работа состояла из **трех разделов**. Участник олимпиады сам определяет последовательность выполнения заданий. Ответы на задания должны быть введены в соответствующие поля системы онлайн тестирования.

**Раздел А (задания №А1–А20) содержит 20 вопросов.** Каждый полностью правильный ответ на задание раздела А оценивается максимально в **2 балла**; отсутствие ответа / неправильный ответ — 0 баллов.

**Раздел В содержит четыре открытых вопроса по экономической теории (задания №В1–В4) и две проблемные ситуации по основам финансовых и потребительских знаний (№В5–В6).** Количество баллов, выставляемых за ответ на задания раздела В, зависит от правильности и полноты ответа. Каждый ответ (в зависимости от правильности и полноты) на задания **В1–В6 оценивается от 0 до 5 баллов.**

**Раздел С содержит одно задание и несколько вопросов к нему. Максимальный балл за задание раздела С — 30 баллов.** Оцениваться будет и полностью правильный, и частично правильный ответ. При оценке ответов на вопросы учитываются: а) знание терминологии и конкретного материала соответствующей области экономической теории, грамотность использования экономических фактов и терминов; б) полнота ответов; в) умение связать теоретический материал с практическими примерами; г) аргументированность, четкость и структурированность ответов; д) творческий характер и оригинальность ответов.

## РАЗДЕЛ А

### Задание А1.

Перед вами характеристика одного из выдающихся российских экономистов современников Н.Д. Кондратьева:

*Родился в 1880 г. в Ярославской губернии в семье учителя. Учился на математическом отделении физико-математического факультета Киевского университета. Дважды был исключен за политическую деятельность. В 1911 г. окончил юридический факультет Киевского университета, получив золотую медаль за дипломную работу «Теория предельной полезности».*

*В 1912 г. была опубликована его книга «Теория корреляции и элементы учения о кривых распределения». В январе 1913 г. был приглашен в Киевский коммерческий институт, где проработал до 1926 г. В 1915–1916 гг. его имя не раз появляется на страницах журнала «Статистический вестник». В 1915 г. в итальянском журнале выходит его статья «К теории сбалансированного бюджета потребителя», которая со временем принесла ему всемирную известность. В этой статье он впервые выделил два эффекта влияния изменения цены на объем потребления – эффект дохода и эффект замены.*

*В 1926–1930 годах являлся консультантом Конъюнктурного института Наркомата финансов СССР. Умер в 1948 году в Москве.*

**Приведите ответ на следующий вопрос:**

**О каком экономисте идет речь? В ответ запишите ФАМИЛИЮ экономиста.**

**Ответ: Слуцкий**

### Задание А2.

Изучите фрагмент из трудов Императорского Вольного экономического общества 1902 года:

*«До сих пор статистическому исследованию подвергались более или менее обширные территориальные или массовые единицы – волости, уезды, губернии, отдельные поселения, отдельные сельские общества и проч. Но несомненно статистический метод исследования может быть применим и к тем случаям, когда желательно выяснить внутреннюю экономическую организацию более мелких единиц, члены которых связаны друг с другом не общностью одного плана поселения, или принадлежностью к одному административному целому, или, наконец, одинаковостью своего экономического быта (села и деревни, землевладельцы, крестьяне-общинники и т.п.), а каким-либо общим предприятием, — одним делом. Таковы разного рода кооперации в России, нередко весьма несродные между собою, но обыкновенно объединяемые под общим названием <термин>.*

*Новые члены принимаются в <термин> при условии различных дополнительных взносов, имеющих характер вкупа. Если член выходит из кооперации, то не получает никакой доли из ее имущества, впредь до полного прекращения деятельности <термин>».*

**Выполните следующие задания:**

**В ответе запишите пропущенный экономический термин.**

**Ответ: артель**

### Задание А3.

Изучите фрагмент из доклада Н.Д. Кондратьева:

«...если мы возьмем <наименование> циклы, падающие на понижательный период большого цикла, то очевидно, что все повышательные тенденции элементов, участвующих в <наименование> циклах, будут ослабляться, а все понижательные тенденции их будут усиливаться общей понижательной волной большого цикла. Если, наоборот, мы возьмем <наименование> циклы, падающие на повышательный период большого цикла, то будем наблюдать обратную картину. Отсюда – <наименование> циклы, приходящиеся на понижательный период большого цикла, должны характеризоваться особой длительностью и глубиной депрессий, краткостью и слабостью подъемов. <наименование> циклы, приходящиеся на повышательный период большого цикла, должны характеризоваться обратными чертами».

**Выполните следующие задания:**

**О каком виде экономических циклов идет речь? В ответ запишите только пропущенное наименование.**

**Ответ: средний, средние**

### Задание А4.

Маркетинговое исследование показало, что функции спроса и предложения картофеля в станице Орловка имеют стандартный линейный вид, причем при изменении цены на один рубль изменение величины спроса в 1,5 раза превосходит изменение величины предложения. Также было выявлено, что величина спроса на картофель жителей станицы Орловка падает до нуля, если цена одного килограмма картофеля составляет 110 рублей и выше, а предложение картофеля в станице Орловка исчезает при цене 35 рублей и ниже.

**Выполните следующее задание:**

**Определите равновесную цену картофеля в станице Орловка. Ответ запишите в рублях.**

**Ответ: 80**

### Задание А5.

На рынке товара  $M$  спрос предъявляет некоторое количество потребителей, индивидуальная функция спроса каждого из которых имеет вид  $q_i = 404 - 2 \cdot p$ , где  $p$  — цена единицы товара  $M$  (руб.),  $q_i$  — величина индивидуального спроса на товар (единиц).

Корпорация «Максима» является монопольным производителем товара  $M$ . Известно, что ее постоянные издержки равны 2020 руб., а переменные издержки в расчете на единицу продукции описываются функцией  $c(Q) = 5Q$ , где  $Q$  — объем выпуска товара  $M$  (единиц).

**Выполните следующее задание:**

**Определите минимальное число потребителей товара  $M$ , при котором корпорация «Максима» сможет получить положительную прибыль.**

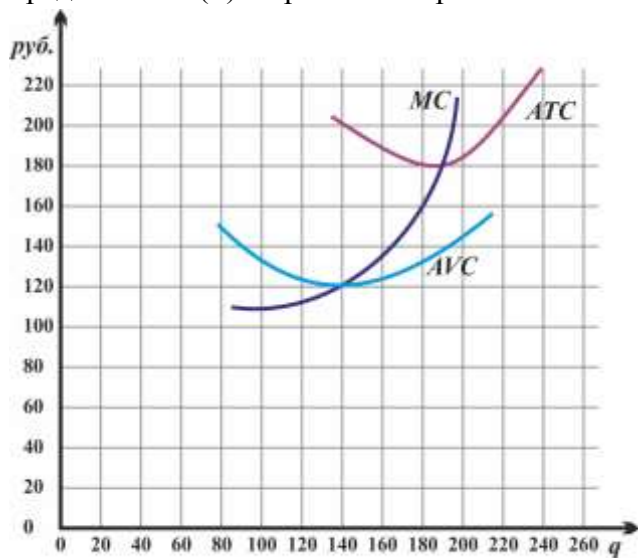
**Ответ: 11**



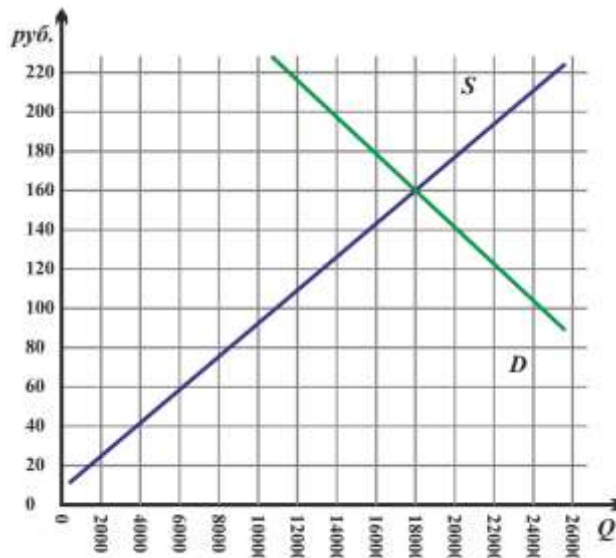
### Задание А6.

Компания «Новатор» действует на совершенно конкурентном рынке товара  $W$ . Целью её деятельности является максимизация прибыли.

На рисунке (а) представлены зависимости средних издержек ( $ATC$ ), средних переменных издержек ( $AVC$ ) и предельных издержек ( $MC$ ) от объема производства ( $Q$ ) товара  $W$  (единиц). На рисунке (б) представлены графики рыночного спроса ( $D$ ) и рыночного предложения ( $S$ ) на рынке товара  $W$ .



(а) Фирма



(б) Рынок

**Выполните следующее задание:**

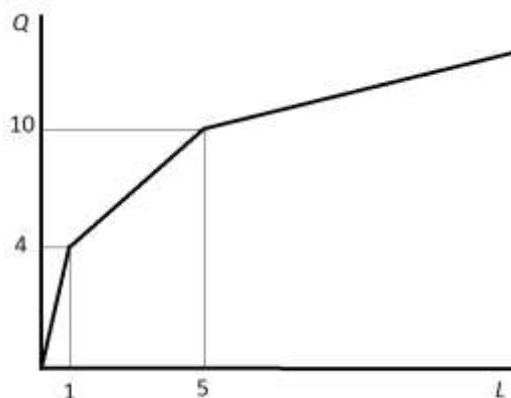
Определите долю компании «Новатор» в общем объеме продаж на рынке товара  $W$  в условиях краткосрочного равновесия. **Ответ запишите в процентах.**

**Ответ: 1**

### Задание А7.

На рисунке представлена зависимость выпуска компании «Орион» ( $Q$ , единиц) от числа нанятых компанией работников ( $L$ , человек). (Значение  $L$  может быть не только целым числом, так как фирма может нанимать работника на неполный рабочий день.)

Известно, что труд является единственным переменным фактором производства для компании «Орион». Зарплата одного работника компании «Орион» составляет 45 000 рублей.



**Выполните следующее задание:**

Определите предельные издержки производства седьмой единицы продукции. **В ответе укажите цифру в рублях.**

**Ответ: 30000**

### Задание А8.

Компания «Феникс» выпускает стандартизированный продукт У. Известно, что в начале марта 2022 года постоянные издержки компании «Феникс» в расчете на единицу продукции составляли 6 000 руб.

Из-за нарушения поставок полуфабрикатов выпуск компании «Феникс» в марте 2022 года сократился на 25%. Одновременно за указанный месяц средние переменные издержки компании снизились на 20% за счет экономии на фонде оплаты труда. Также известно, что себестоимость производства единицы продукции компанией «Феникс» за март 2022 года увеличилась на 1 000 рублей, а величина постоянных издержек осталась прежней.

**Выполните следующее задание:**

**Определите значение величины средних переменных издержек компании «Феникс» в конце марта 2022 года. Ответ запишите в рублях.**

**Ответ: 4000**

### Задание А9.

Компания «Глобус» действует на совершенно конкурентном рынке товара *Игрек*.

Известно, что на рынке товара *Игрек* установилась цена в размере 1950 рублей за единицу товара *Игрек*.

Известно также, что переменные издержки фирмы «Глобус» складываются из расходов на заработную плату и затрат на приобретение импортного сырья (заготовок для производства товара *Игрек*). При этом за изготовление одной единицы товара *Игрек* «Глобус» выплачивает работникам 150 рублей, а заготовки для производства товара *Игрек* фирма «Глобус» закупает по цене 20 долларов США за штуку. Постоянные издержки фирмы составляют 39 тысяч рублей в месяц. Других издержек фирма не несет.

**Выполните следующее задание:**

**Определите, при каком курсе рубля к доллару США фирме «Глобус» станет невыгодным работать на рынке товара *Игрек* в краткосрочном периоде. Ответ запишите в рублях. (Ответ округлите в меньшую сторону до целочисленного значения.)**

**Ответ: 90**

### Задание А10.

Функция спроса на продукцию максимизирующего прибыль монополиста имеет вид  $Q = 12 - p$ , издержки монополиста заданы уравнением  $TC(Q) = 2Q^2$  ( $Q$  — объем выпуска, тонн;  $p$  — цена продукции монополиста, млн. рублей за тонну).

Известно, что разработана технология, внедрение которой позволит монополисту уменьшить издержки при каждом объеме выпуска ровно в два раза. Единовременный платеж за использование технологии составляет 4 млн. рублей.

**Выполните следующее задание:**

**Определите, на сколько увеличится прибыль монополиста при внедрении данной технологии. Ответ запишите в млн. рублей.**

**Ответ: 2**

### Задание А11.

В Верхотуринске спрос на товар  $Y$  и его предложение заданы, соответственно, функциями  $p = 140 - 0,75 \cdot Q$  и  $p = 60 + 0,25 \cdot Q$  ( $Q$  — количество, штук;  $p$  — цена, руб.).

В целях сокращения дефицита регионального бюджета министерством финансов региона подготовлено распоряжение о введении потоварного налога  $t$ , взимаемого с производителей товара  $Y$  в виде фиксированной суммы (20 рублей) за каждую проданную единицу продукции.

**Выполните следующее задание:**

Определите **равновесную цену**, которую придется платить потребителям за каждую единицу товара  $Y$  после введения данного налога. **Ответ запишите в рублях.**

**Ответ: 95**

### Задание А12.

31 декабря 2021 года инвестиционный аналитик Губошлепов распределил свои сбережения между тремя инвестиционными инструментами: (А) драгоценные металлы (золото); (Б) криптовалюта (биткойн); (В) облигации федерального займа (ОФЗ). Причем на каждые два рубля, вложенные в инструмент (А) приходится три рубля, вложенные в инструмент (Б), а на каждые два рубля, вложенные в инструмент (Б), приходится пять рублей, вложенные в инструмент (В).

Известно, что за первый квартал 2022 года средний доход Губошлепова на вложенный рубль составил 46 копеек, причем инвестиции в золото принесли 25% годовых, а в размещение средств в облигации федерального займа — 10% годовых.

**Выполните следующее задание:**

Определите **доходность инвестиций Губошлепов от вложения средств в биткойн за первый квартал 2022 года**. **Ответ запишите в процентах.**

**Ответ: 150**

### Задание А13.

Одним из показателей сбалансированности внешней торговли страны является *коэффициент покрытия импорта экспортом*, который представляет собой отношение величины экспорта страны к величине импорта страны (измеряется в процентах).

В стране Альфа в 2020 году коэффициент покрытия импорта экспортом составлял 120%, а в 2021 году из-за роста цен на бокситы, которые являются основным экспортным товаром страны Альфа, этот показатель вырос до 150%.

Известно, что в стране Альфа в 2021 году по сравнению с 2020 годом расходы домохозяйств на приобретение конечных товаров и услуг сократились на 25% и составили 45 млн. долларов, расходы компаний на приобретение инвестиционных товаров сократились на одну треть и составили 30 млн. долларов, государственные закупки конечных товаров и услуг возросли с 23 млн. долларов до 28 млн. долларов, а государственные социальные трансферы увеличились вдвое и составили 12 млн. долларов. Известно также, что в 2020 году внешнеторговый оборот страны Альфа составлял 44 млн. долларов, а в 2021 году этот показатель вырос на 25%.

**Выполните следующее задание:**

Определите **величину ВВП страны Альфа в 2021 году**. **Ответ запишите в млн. долларов.**

**Ответ: 114**

#### Задание А14.

В 2021 году в стране  $N$  применялась прогрессивная шкала взимания налога на доходы физических лиц (далее – подоходного налога): первые 200 000 руб. ежегодного дохода физических лиц не облагаются налогом; доходы от 200 001 до 600 000 руб. облагаются налогом по ставке 10%; для всех доходов свыше 600 001 руб. ставка налога составляет 25%.

Известно, что в 2021 году гражданин Бобров, являясь честным налогоплательщиком и налоговым резидентом страны  $N$ , выплатил в качестве подоходного налога 20% от размера своего годового дохода. (Каких-либо налоговых льгот Бобров не имеет.)

В целях преодоления последствий пандемии COVID-19 парламент страны  $N$  принял закон об установлении с 1 января 2022 ставки подоходного налога для доходов свыше 1100 тысяч рублей в год в размере 35%. Остальные ставки остались без изменений.

**Выполните следующее задание:**

**Определите, на сколько процентов возрастут налоговые платежи Боброва в 2022 году в случае осуществления правительством запланированной налоговой реформы и при прочих равных условиях. Ответ запишите в процентах.**

**Ответ: 25**

#### Задание А15.

В 2002 году численность населения *Аллемании* составляла 60 миллионов человек. При этом занятые и безработные составляли, соответственно, 40% и 10% от всего населения.

В 2022 году численность жителей *Аллемании* стала составлять 84 миллиона человек. Известно также, что численность занятых увеличилась в полтора раза, а численность жителей, не являющихся экономически активными, выросла на 20%.

**Выполните следующее задание:**

**Определите уровень безработицы в стране в 2022 году. В ответ запишите соответствующий процент.**

**Ответ: 25**

#### Задание А16.

Перед Вами изображение одного из государственных казначейских билетов СССР, появление которого связано со значимой финансовой реформой:



**Укажите фамилию народного комиссара, который осуществил данную реформу. В ответ запишите ФАМИЛИЮ.**

**Ответ: Сокольников**

**Задание А17.**

Изучите сведения о структуре денежных доходов населения России в 2020 и 2021 годах:

наименование показателя	удельный вес		2021 год в % к 2020 году
	2020 г., %	2021 г., %	
<b>Денежные доходы</b>	<b>100</b>	<b>100</b>	<b>110,3</b>
(1) Доходы от предпринимательской деятельности	5,2	5,8	123,9
(2) Доходы от собственности	5,8	5,2	97,9
(3) Оплата труда	57,5	57,6	110,4
(4) Прочие денежные поступления	10,0	10,6	117,1
(5) Социальные выплаты	21,5	20,8	106,7

**Приведите ответ на следующий вопрос:**

Какой из компонентов денежных доходов населения увеличился в наибольшей степени в абсолютном выражении в 2021 году по сравнению с 2020 годом? В ответе укажите только ЦИФРУ (1, 2, 3, 4 или 5).

**Ответ: 3**

**Задание А18.**

В первом квартале 2021 года экономика страны *R* находилась в фазе экономического подъема, а в первом квартале 2022 года — в фазе экономического спада.

За этот период (с начала 2021 года до конца первого квартала 2022 года) численность населения страны *R* сократилась на 1%, уровень участия в рабочей силе вырос на 2%, темп прироста потребительских цен в стране *R* составил 5%, величина налоговых поступлений сократилась на 2%.

Исходя из приведенных данных можно **ОДНОЗНАЧНО** утверждать, что к концу первого квартала 2022 года в стране *R* по сравнению с концом первого квартала 2021 года:

- 1) сократился ВВП страны, измеренный в постоянных ценах;
- 2) увеличился ВВП страны на душу населения, измеренный в постоянных ценах;
- 3) выросла численность безработных;
- 4) сократилась численность занятых;
- 5) выросла численность экономически активного населения;
- 6) сократились реальные располагаемые доходы населения;
- 7) увеличился дефицит государственного бюджета.

**Приведите ответ на следующий вопрос:**

Укажите количество верных утверждений (от 0 до 7):

**Ответ: 1**

**Задание А19.**

Изучите сведения из платежного баланса Российской Федерации за 2000 и 2021 год:

наименование показателя	2020 г., млн. долл. США	2021 г., млн. долл. США
<b>Сальдо счета текущих операций</b>	<b>36 030</b>	<b>122 040</b>
торговый баланс	<...>	<...>
<i>Экспорт</i>	333 375	493 821
<i>Импорт</i>	239 640	303 994
баланс услуг	-16 417	-19 525
<i>Экспорт</i>	48 082	55 951
<i>Импорт</i>	64 499	75 476
баланс оплаты труда	-1 018	178
баланс инвестиционных доходов	-34 052	-43 519
баланс ренты	65	68
баланс вторичных доходов	- 6 282	- 4 988
<b>Сальдо счета операций с капиталов</b>	<b>- 519</b>	<b>- 296</b>
<b>Сальдо счета текущих операций и счета операций с капиталом</b>	<b>35 512</b>	<b>121 744</b>

*Выполните следующие задания:*

**На сколько изменилось сальдо торгового баланса в 2021 году по сравнению с 2020 годом? Ответ запишите в млн. долларов США без указания знака размерности.**

**Ответ: 96092**

**Задание А20.**

Одним из ключевых структурных элементов глобальной экономики являются международные экономические организации.

Определите, каков был статус России в нижеперечисленных международных экономических организациях в 2021 году:

- (1) *Россия являлась членом организации;*
- (2) *Россия не являлась членом организации;*
- (3) *Организация не существовала.*

наименование организации	статус
Всемирная торговая организация	
Евразийский экономический союз	
Международный банк реконструкции и развития	
Международный валютный фонд	
Организация по экономическому сотрудничеству и развитию	
Организация стран-экспортеров нефти	
Совет экономической взаимопомощи	

*Выполните следующее задание:*

**В ответ запишите последовательность цифр, соответствующих статусу России в вышеуказанных международных экономических организациях в 2021 году. (Например, 111111).**

**Ответ: 1111223**

## РАЗДЕЛ В

### Задание В1.

Прочитайте фрагмент из трудов Императорского Вольного экономического общества:

*«В конце 18 века и в начале 19-го большинство экономистов <школы экономической мысли> высказывали крайне скептическое отношение даже к самой благожелательной законодательной регламентации экономических явлений.*

*Восхваляя творческие силы стихийных процессов, они требовали устранения всех препятствий и всякого контроля, стесняющего свободные сношения между отдельными индивидуумами и отдельными народами. В настоящее время, такое увлечение индивидуализмом потеряло под собою почву, так как конкуренция создала совершенно иные условия. Мы говорим, однако, и теперь еще, как на это указывают многие выдающиеся экономисты, часто так, как будто бы все еще живем в эпоху свободы промыслов и свободной конкуренции. Но в действительности, со времени появления синдикатов и трестов, мы уже далеки от этой эпохи».*

**Выполните следующие задания:**

- 1. Укажите пропущенное название школы экономической мысли.**
- 2. По мнению А.В. Чаянова, «будущее экономической науки состоит не в создании одной единственной универсальной теории экономической жизни народа, а в разработке ряда теоретических систем». Согласны ли Вы с утверждением? Свой ответ аргументируйте.**

### Задание В2.

Прочитайте фрагмент из научной статьи:

*«<Термин> в России стало актуально, когда начали проводиться активные действия по введению санкций против России... В Советском союзе такого слова не существовало, потому что в те времена было все свое, начиная от сырья и заканчивая готовыми продуктами. После того, когда отменился запрет на ввоз товаров из-за рубежа в нашу страну пошел поток иностранных товаров, которые ничем не сдерживались... Когда более половины товаров в России стали импортными, российские производители ушли с рынка, потому что конкурировать с иностранными производителями стало невозможно. И вот сейчас, возникла необходимость стать конкурентоспособными производителями, наладить свое производство и заменить импортные товары товарами своего производства... Можно сделать вывод, вспомнив пословицу: «Не было бы счастья, да несчастье помогло». Внешнеполитическая ситуация в России, которая сложилась в последнее время в стране, вроде должна была повлечь за собой губительные последствия, а получилось наоборот».*

**Выполните следующие задания:**

- 1. Укажите пропущенный экономический термин и поясните его значение.**
- 2. Назовите выгоды и издержки реализации описываемой экономической политики в современной России.**

### Задание В3.

Прочитайте фрагмент из заметки в электронном СМИ:

*«Шри-Ланка впервые с объявления независимости в 1948 г. остановила 12 апреля выплаты по всем внешним обязательствам.*

*<термин> объявлен по всем облигациям и двусторонним кредитам, кредитным соглашениям, номинированным в валюте, с коммерческими банками или иными кредитными организациями, кроме свопов между центробанком Шри-Ланки и других стран.*

*Общий объем всего внешнего долга страны – чуть более \$50,7 млрд. В этом году страна должна была погасить обязательства по ним на \$4 млрд.»*

**Выполните следующие задания:**

- 1. Укажите пропущенный термин и поясните его значение.**
- 2. Поясните, какие последствия может иметь указанное решение правительства Шри-Ланки для экономики страны.**

#### **Задание В4.**

Прочитайте приведенный ниже фрагмент из пресс-релиза Банка России:

*«Совет директоров Банка России принял решение снизить ключевую ставку с 11 апреля 2022 года до 17,00% годовых. Внешние условия для российской экономики остаются сложными и значительно ограничивают экономическую деятельность... Годовая инфляция продолжит возрастать в силу эффекта базы, но последние недельные данные указывают на существенное замедление текущих темпов роста цен, в том числе благодаря динамике обменного курса рубля. Произошедшее ужесточение денежно-кредитных условий частично компенсировано программами поддержки кредитования со стороны Правительства и Банка России, но в целом продолжит ограничивать проинфляционные риски...»*

*Банк России будет принимать дальнейшие решения по ключевой ставке исходя из оценки рисков со стороны внешних и внутренних условий, реакции на них финансовых рынков и с учетом фактической и ожидаемой динамики инфляции относительно цели.»*

**Приведите ответы на следующие вопросы:**

- 1. Поясните понятие «проинфляционные риски». Какие проинфляционные риски характерны для современной России?**
- 2. Укажите цель денежно-кредитной политики Банка России по инфляции.**

#### **Задание В5.**

Изучите фрагмент из Государственного доклада «Защита прав потребителей в Российской Федерации в 2020 году»:

*«Экономические кризисы и связанное с ними сокращение доходов традиционно являются временем активизации финансовых мошенников. В последние годы, особенно в аспекте перехода на дистанционные каналы обслуживания, оказалось очевидным, что скорость развития мошеннических систем в банковской сфере существенно превышает скорость построения защиты от таких противозаконных действий.»*

*Мониторинг финансовой грамотности, проводимый ежегодно Минфином России и НАФИ, показывает, что до сих пор россияне не научились в достаточной мере различать мошеннические схемы и финансовые пирамиды. В целом уверенно способны распознать финансовую пирамиду около четверти (26%) жителей России.»*

**Приведите ответы на следующие вопросы:**

- 1. Что представляет собой финансовая пирамида? Какие признаки финансовой пирамиды Вам известны?**
- 2. Обоснована ли точка зрения, что «экономические кризисы и связанное с ними сокращение доходов традиционно являются временем активизации финансовых мошенников»? Свой ответ аргументируйте.**

#### **Задание В6.**

Изучите приведенную проблемную ситуацию:

*На главной странице сайта сервиса по ремонту и обслуживанию оконных систем «КИСЛОРОД» размещен баннер о 20 процентной скидке на услуги: «сегодня скидки -20%».*

*Гражданин Смирнов обратился по указанному на сайте телефону и заказал услугу утепления пластиковых окон на балконе своей квартиры. Менеджером было озвучено, что полная стоимость работ (без учета скидки) составит 16 500 рублей.*

*После выполнения работ по утеплению пластиковых окон мастер Петров объявил, что Смирнову необходимо оплатить 20 000 рублей. На вопрос Смирнова, почему изменилась стоимость работ и почему не предоставлена скидка, мастер Петров пояснил, что при выполнении работ им были использованы более качественные материалы. Петров также сообщил, что скидка предоставляется только при стоимости работ от 50 тысяч рублей.*

**Руководствуясь действующим законодательством, выполните задание:**

**Правомерны ли действия мастера Петрова? Посоветуйте, какие действия следует предпринять Смирнову для защиты своих прав и законных интересов. Аргументируйте свой ответ.**



**Раздел В**  
**(каждое задание максимум — 5 баллов)**

Вопрос	ключевые элементы ответа
<b>В1</b>	<p>1. Классическая школа политической экономии — 1 балл.</p> <p>2. Сформулирована собственная позиция — 1 балл.</p> <p>Приведено с опорой на экономические знания обоснование собственной позиции по вопросу о том, что будущее экономической науки состоит в разработке ряда теоретических систем, а не в создании одной единственной универсальной теории экономической жизни народа.</p> <p><i>В зависимости от полноты и правильности ответа — 0, 1, 2, 3 балла.</i></p>
<b>В2</b>	<p>1. Импортозамещение — 1 балл.</p> <p>Приведено корректное и полное определение понятия «импортозамещение» — 1 балл.</p> <p>2. Корректно и полно перечислены выгоды и издержки реализации политики импортозамещения для России.</p> <p><i>В зависимости от полноты и правильности ответа — 0, 1, 2, 3 балла.</i></p>
<b>В3</b>	<p>1. Дефолт — 1 балл.</p> <p>Приведено корректное и полное определение понятия «дефолт» — 1 балл.</p> <p>2. Корректно и полно перечислены возможные последствия дефолта для Шри-Ланки. <i>В зависимости от полноты и правильности ответа — 0, 1, 2, 3 балла.</i></p>
<b>В4</b>	<p><b>1.</b> Приведено корректное и полное определение понятия «проинфляционные риски» — 1 балл.</p> <p>Корректно и полно перечислены проинфляционные риски, характерные для современной России.</p> <p><i>В зависимости от полноты и правильности ответа — 0, 1, 2, 3 балла.</i></p> <p>2. Корректно указана цель ДКП Банка России по инфляции – 4%. – 1 балл</p>
<b>В5</b>	<p><b>1.</b> Приведено корректное и полное определение понятия «финансовая пирамида» – 1 балл.</p> <p>Корректно перечислены ключевые признаки финансовой пирамиды.</p> <p><i>В зависимости от полноты и правильности ответа — 0, 1, 2 балла.</i></p> <p><b>3.</b> Приведено с опорой на экономические знания и факты обоснование по вопросу, что экономические кризисы и связанное с ними сокращение доходов традиционно являются временем активизации финансовых мошенников.</p> <p><i>В зависимости от полноты и правильности ответа — 0, 1, 2 балла.</i></p>
<b>В6</b>	<p>Указано, что действия мастера не правомерны, — 1 балл.</p> <p>Приведено с опорой на нормы действующего законодательства пояснение, почему действия мастера не правомерны.</p> <p><i>В зависимости от полноты и правильности ответа — 0, 1 или 2 балла.</i></p> <p>Приведено с опорой на нормы действующего законодательства пояснение, какие действия следует предпринять Смирнову в указанной ситуации.</p> <p><i>В зависимости от полноты и правильности ответа — 0, 1 или 2 балла.</i></p>

## РАЗДЕЛ С

**Прочитайте нижеприведенный отрывок из работы Н.Д. Кондратьева «К вопросу о понятиях экономической статики, динамики и конъюнктуры»:**

*«Термин конъюнктура принадлежит в настоящее время к числу наиболее популярных и употребляется очень часто. Однако необходимо признать, что понятие, обозначаемое этим термином, до сих пор сколько-нибудь точно не определено. Такое положение с термином «конъюнктура» ненормально...»*

Мы полагаем, что понятие, которое следует обозначать термином «конъюнктура»... представляет из себя видовое понятие по отношению к более общему, родовому понятию экономической динамики. Поэтому определение понятия конъюнктуры предполагает уже определение понятия экономической динамики. Но понятие экономической динамики в свою очередь можно установить лишь в связи с понятием экономической статики. В силу сказанного в целом задача настоящей работы сводится к попытке установить три понятия: экономической статики, динамики и конъюнктуры...

Конкретная социально-экономическая действительность, как она дана нам в опыте, изменчива, многообразна и сложна. Эти свойства экономической действительности являются основными причинами трудности научного познания ее. И если тем не менее научное познание этой действительности все же возможно и обнаруживает известные успехи, то лишь потому, что наука аналитически разлагает конкретную действительность на более простые и однородные элементы и лишь затем дает их синтез. Всякая научная теория неизбежно связана с указанным упрощением конкретной действительности. То же самое мы должны, конечно, сказать и относительно статической и динамической теории экономической действительности....

*Под статической мы понимаем теорию, которая рассматривает экономические явления по существу, вне категории изменения их во времени. Наоборот, под динамической мы понимаем ту теорию, которая изучает экономические явления в процессе их изменения во времени.* В соответствии с этим для статической точки зрения на экономическую действительность особенно характерной является концепция равновесия взаимно связанных между собою элементов этой действительности. Наоборот, для динамической точки зрения наиболее характерной будет концепция процесса изменений экономических элементов и их связей.

Руководясь такими предварительными понятиями экономической статики и динамики, мы можем теперь показать, что, с одной стороны, современная экономическая наука имеет по преимуществу статический характер, с другой стороны, она все более приходит к осознанию необходимости развития динамической теории...»

**Приведите ответы на следующие вопросы к заданию:**

**№1.** Поясните значение термина «экономическая конъюнктура». Какие показатели, на Ваш взгляд, являются наиболее важными для анализа колебаний экономической конъюнктуры? Свой ответ поясните.

**№2.** Н.Д. Кондратьев утверждает, что современная экономическая наука имеет по преимуществу статический характер, с другой стороны, она все более приходит к осознанию необходимости развития динамической теории. Приведите примеры «статистических» и «динамических» экономических теорий. Сохраняет ли актуальность данная точка зрения в настоящее время? Свой ответ аргументируйте.

**№3.** В работе 1926 г. «Проблема предвидения» Н.Д. Кондратьев указывал, предвидение, основанное на анализе колебаний экономической конъюнктуры, позволяет прогнозировать момент перехода от одной фазы цикла к другой и своевременно принимать меры, смягчающие кризисные явления. Назовите макроэкономические меры, которые могут быть приняты для смягчения кризисных явлений. Свой ответ аргументируйте.

**Раздел С**  
**(максимум — 30 баллов)**

**№1. Поясните значение термина «экономическая конъюнктура».**

*Приведено корректное и полное определение понятия «экономическая конъюнктура»: в зависимости от полноты и правильности ответа – до 2 баллов.*

**Какие показатели, на Ваш взгляд, являются наиболее важными для анализа колебаний экономической конъюнктуры? Свой ответ поясните.**

*За каждый корректно названный показатель и корректное пояснение с опорой на знания экономической теории, каким образом этот показатель позволяет проанализировать колебание экономической конъюнктуры, – 1 балл, максимум 8 баллов.*

**№2. Н.Д. Кондратьев утверждает, что современная экономическая наука имеет по преимуществу статический характер, с другой стороны, она все более приходит к осознанию необходимости развития динамической теории.**

**Приведите примеры «статических» и «динамических» экономических теорий.**

*За каждый корректно приведенный пример статической экономической теории – 1 балл, максимум – 2 балла.*

*За каждый корректно приведенный пример динамической экономической теории – 1 балл, максимум – 2 балла.*

**Сохраняет ли актуальность данная точка зрения в настоящее время? Свой ответ аргументируйте.**

*Сформулирована собственная точка зрения – 1 балл.*

*Приведено логически непротиворечивое обоснование с опорой на знания терминологии и конкретное использование материала соответствующей области экономической теории, сохраняет ли актуальность точка зрения, что современная экономическая наука имеет по преимуществу статический характер, но она все более приходит к осознанию необходимости развития динамической теории – до 5 баллов.*

**№3. Назовите макроэкономические меры, которые могут быть приняты для смягчения кризисных явлений. Свой ответ поясните.**

*За каждую корректно указанную меру и корректное пояснение с опорой на знания экономической теории, каким образом эта мера позволяет смягчить кризисные явления, – 1 балл, максимум 10 баллов.*